

Montag, 25.01.21

Mathematik „Addieren und Subtrahieren bis 10“

1. Grundaufgaben der Addition

Du solltest die Additionsaufgaben im M1-Heft auswendig lernen. Lass dir die Aufgaben durcheinander von einem Erwachsenen ansagen! Weißt du sofort die Lösung? Prima!

Wenn du noch nicht sicher bist, lerne weiter auswendig! Es hilft dir beim weiteren Rechnen!

2. Addieren und Subtrahieren am Rechenstrich

Vorwärts am Rechenstrich

2 _____ 2 + 6 _____ 2 + 6 = 8 _____

1

$6 + 3 = \underline{\quad}$ 	$5 + 3 = \underline{\quad}$ 	$4 + 5 = \underline{\quad}$
---------------------------------	---------------------------------	---------------------------------

2

$2 + 4 = \underline{\quad}$	$7 + 2 = \underline{\quad}$	$1 + 8 = \underline{\quad}$	$6 + 4 = \underline{\quad}$
$3 + 7 = \underline{\quad}$	$4 + 4 = \underline{\quad}$	$5 + 4 = \underline{\quad}$	$4 + 3 = \underline{\quad}$

Rückwärts am Rechenstrich

9 _____ 9 - 6 _____ 9 - 6 = 3 _____

3

$6 - 3 = \underline{\quad}$ 	$5 - 3 = \underline{\quad}$ 	$9 - 2 = \underline{\quad}$
---------------------------------	---------------------------------	---------------------------------

4

$8 - 3 = \underline{\quad}$	$7 - 2 = \underline{\quad}$	$8 - 7 = \underline{\quad}$	$7 - 4 = \underline{\quad}$
$10 - 7 = \underline{\quad}$	$6 - 4 = \underline{\quad}$	$9 - 5 = \underline{\quad}$	$8 - 6 = \underline{\quad}$

Zahline S.34/1-6

Geschafft! Du darfst in deinem Lernpass dem 1. Mathefenster ein Lachgesicht 😊 geben!

Deutsch:

1. Buchstabensicherheit:

Lass dir folgende Schreibbuchstaben in dein D2- Heft diktieren: (falls du einen nicht weißt, mach einen Strich -)

Ji, Nm, Aa, Ee, Ff, Qq, Pp, Mm, Ll, Uu,

Alles richtig? Prima! Berichtige falsche oder fehlende Buchstaben und übe sie!

Nenne die Lautnamen dieser Buchstaben:

A N M L a m E S I W n s i w e R U r u P o p T O t Ei

2. Leseübung

Wer war es ?

Wer war an meinem Teller ? Wer war an meiner Tasse?

Wer war an meinem Messer? Wer ist in meinem  ?

Seppel will es wissen. Er holt eine Laterne.

Sei leise! Es ist ...



3. Schreibübung:

Umi Schreibschriftheft S. 22: Lies den Satz rechts in der Mitte! Schreibe ihn auf Zauberpapier in die Zeile! Schreibe in nun in dein Heft!

Färbe die Silben, die ein Wort ergeben mit derselben Farbe! Schreibe die Wörter zuerst auf Zauberpapier und dann in dein Heft! Ergänze die Ziffern!

Geschafft! Du darfst in deinem Lernpass dem 1. Deutschfenster ein Lachgesicht 😊 geben!

4. Sinnerfassung:

Umi Übungsheft S.31/2 Lies und kreuze die richtige Antwort an!

5. Schreibübung:

Beachte folgende Schritte: Spure auf Zauberpapier nach! Übe in der freien Zeile auf Zauberpapier! Achte auf die Abstände zwischen den Wörtern! Wenn es so wie vorgeschrieben gelingt, schreibe in die Zeile!

Schreibe im D1:

Ina malt Fulpfen.

Ilona malt mit Nina Enten.

Geschafft! Du darfst in deinem Lernpass dem 2. Deutschfenster ein Lachgesicht 😊 geben!


Dienstag, 26.01.21

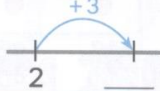
Mathematik „Aufgabe und Umkehraufgabe“

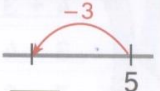
1. Übung Zahline S. 34/8,9 Alles richtig? Prima! Berichtige falsche Aufgaben!
2. Aufgabe und Umkehraufgabe

Schau dir die Bilder genau an! Sage, was passiert! Schreibe die fehlenden Zahlen unter die Bilder! Schneide den Merksatz aus und klebe ihn in dein M1- Heft!

Aufgabe und Umkehraufgabe



Aufgabe $2 + 3 = \underline{\quad}$ 

Umkehraufgabe $5 - 3 = \underline{\quad}$ 

$5 + 3 = 8$ und $8 - 3 = 5$ sind Umkehraufgaben.

Bearbeite nun das Arbeitsblatt! Schau genau, wie du die Pfeile zeichnen musst! Schreibe immer auch das richtige Zeichen und die Zahl dazu!

1 $5 + 3 = \underline{\quad}$ $8 - 3 = \underline{\quad}$		2 $4 + 2 = \underline{\quad}$ $6 - 2 = \underline{\quad}$	
3 $6 + 2 = \underline{\quad}$ $8 - 2 = \underline{\quad}$		4 $4 + 3 = \underline{\quad}$ $\underline{\quad} - 3 = \underline{\quad}$	
5 $\underline{\quad} + 3 = 9$ $9 - 3 = \underline{\quad}$		6 $\underline{\quad} + 7 = 9$ $9 - 7 = \underline{\quad}$	
7 $\underline{\quad} + 2 = 7$ $\underline{\quad} - 2 = \underline{\quad}$		8 $\underline{\quad} + 4 = 6$ $\underline{\quad} - 4 = \underline{\quad}$	
9 $\underline{\quad} - 3 = 4$ $\underline{\quad} + 3 = \underline{\quad}$		10 $\underline{\quad} - 3 = 6$ $\underline{\quad} + 3 = \underline{\quad}$	
11 $\underline{\quad} - 2 = 7$ $\underline{\quad} + 2 = \underline{\quad}$		12 $\underline{\quad} - 4 = 4$ $\underline{\quad} + 4 = \underline{\quad}$	

Geschafft! Du darfst in deinem Lernpass dem 2. Mathefenster ein Lachgesicht 😊 geben!

Deutsch:

1. Leseübung

Wo sind Susi und Nero?

Susi und Nero sind in einer Wanne.

Nun nimmt Uwe einen Eimer und holt warmes Wasser.

Prr, nun sind Susi und Nero nass.


Susi rennt unter eine Tanne.

Nero rennt in eine Tonne.

Susi rennt nun mit Nero ein Wettrennen.

Uwe holt eine Leine. Nero soll nun an eine Leine.

Nanu, wo ist Nero? Er ist in einem Eimer.



2. Einführung Schreibschrift s

Umi Schreibschriftheft S. 23 oben links: Nase kurz runter, Bogen nach rechts und rum

Spure die Nasen nach!

Mitte: schräg auf, Zwergennase

Schreibe groß in die Luft! Schreibe es Mama oder Papa auf den Rücken! Vergiss nicht, abzuwischen 😊!

Spure mit dem Fineliner das s in der Mitte nach! Lege dein Löschblatt nun unter die Zeile s und spure mit dem Füller nach! Übe nun auf Zauberpapier! Schreibe s und zeichne den schönsten Buchstaben aus!

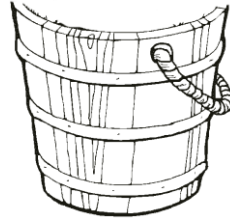
Spure so nach! Übe auf Zauberpapier! Schreibe ins Heft! Arbeite mit soll, es, Lisa und lesen nun genau so!

3. Sinnerfassung:

Male  Susi in einer Wanne.



Male Nero im Eimer.



Geschafft! Du darfst in deinem Lernpass dem 3. Deutschfenster ein Lachgesicht 😊 geben!

Sachunterricht „Tiere im Winter“

Bitte einen Erwachsenen, dir folgende Seite im Internet zu öffnen:

[Hamsterkiste - Lernportal für die Grundschule Klasse 1 bis 6](#)

° Tiere in Feld und Wald

° Tiere im Winter

Bitte ihn nun, dass er dir folgende Kapitel vorliest: **1 Winter - eine schwere Zeit für Tiere | 2**

Vögel frieren nicht | 3 Einigen hilft ein dickes Fell | 4 Andere halten Winterschlaf | 5

Eichhörnchen sorgen vor

Wie überstehen Vögel den Winter? Wer bekommt ein Winterfell? Wer hält Winterschlaf und wer Winterruhe?

Geschafft! Du darfst in deinem Lernpass dem 1. Sachunterrichtsfenster ein Lachgesicht 😊 geben!

Mittwoch, 27.01.21

Mathematik „Aufgabe und Umkehraufgabe“

1. Grundaufgaben der Addition

Lass dir die Grundaufgaben (im M1) durcheinander von einem Erwachsenen ansagen! Weißt du sofort die Lösung? Prima!

Wenn du noch nicht sicher bist, lerne weiter auswendig!

2. Aufgabe und Umkehraufgabe

Zahlline S. 35/ 1-14 Schau genau, wie du die Pfeile zeichnen musst! Schreibe immer auch das richtige Zeichen und die Zahl dazu!

Geschafft! Du darfst in deinem Lernpass dem 3. Mathefenster ein Lachgesicht 😊 geben!

Deutsch:

1. Leseübung

Reime malen

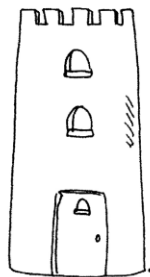
Rita malt einen Reiter .

Male eine Leiter .




Murat malt einen Turm .

Male einen Wurm .



Umi malt Enten im See .

Male eine Tasse Tee .



Mario malt eine Tanne .

Male eine rote Wanne .



2. Einführung Schreibschrift S

Umi Schreibschriftheft S. 23 oben rechts: Bogen nach links, Bogen nach rechts (wie eine halbe acht, aber leicht nach rechts geneigt wie alle Schreibbuchstaben)

Schreibe groß in die Luft! Schreibe es Mama oder Papa auf den Rücken! Vergiss nicht, abzuwischen 😊!

Spure mit dem Fineliner das S nach! Lege dein Löschblatt nun unter die Zeile S und spure mit dem Füller nach! Übe nun auf Zauberpapier! Schreibe S und zeichne den schönsten Buchstaben aus!

Spure See nach! Übe auf Zauberpapier! Schreibe ins Heft! Arbeite mit Simon nun genau so!

3. Sinnerfassung und Schreibübung:

Umi Übungsheft S.31/ 3

Schreibe die Antwort in Schreibschrift! Übe vorher auf Zauberpapier!

Umi malt mit einem Pinsel.

Geschafft! Du darfst in deinem Lernpass dem 4. Deutschfenster ein Lachgesicht 😊 geben!

Sachunterricht „Tiere im Winter“

Bitte einen Erwachsenen, dir folgende Seite im Internet zu öffnen:

[Hamsterkiste - Lernportal für die Grundschule Klasse 1 bis 6](#)

° Tiere in Feld und Wald

° Tiere im Winter

Bitte ihn nun, dass er dir folgende Kapitel vorliest: **7 Frösche fallen in eine Winterstarre | 8 Bienen haben sogar eine Heizung | 9 Marienkäfer sind nicht gern allein | 10 Fische zieht es in die Tiefe | 11 Überleben in Höhlen und Ritzen**

Wer verfällt in Winterstarre? Wie überleben die Bienen? Was hilft den Marienkäfern im Winter? Wo verbringen Fische den Winter? Wie kann man den Insekten helfen?

Geschafft! Du darfst in deinem Lernpass dem 2. Sachunterrichtsfenster ein Lachgesicht 😊 geben!

Donnerstag, 28.01.21

Mathematik „Pluminchen“


1. Grundaufgaben der Addition

Lass dir die Grundaufgaben (im M1) durcheinander von einem Erwachsenen ansagen! Weißt du sofort die Lösung? Prima!

Wenn du noch nicht sicher bist, lerne weiter auswendig!

2. Verwandte Aufgaben

Schau dir das Bild an! Drei Zahlen ergeben 4 Aufgaben: zwei Additionsaufgaben und zwei Subtraktionsaufgaben.




Schreibe die fehlenden Zahlen in das Pluminchen! Schneide es aus und klebe es in dein M1-Heft!

Verwandte Aufgaben

Pluminchen

1




Drei Zahlen im Kopf,
vier Aufgaben im Bauch:
zwei Additionsaufgaben,
zwei Subtraktionsaufgaben.


Bearbeite nun Plumino und Pluminchen: Schreibe die Aufgabe und die Tauschaufgabe, dazu die Umkehraufgaben!

Plumino


2




3



4




5



6



7



Zahline S. 36/1-3

Geschafft! Du darfst in deinem Lernpass dem 4. Mathefenster ein Lachgesicht 😊 geben!

Deutsch:

1. Leseübung:

Zusatztext vom Dienstag

2. Schreibübung

Umi Schreibschriftheft S. 24 links: Lies die Wörter!

Spure nach! Übe auf Zauberpapier! Schreibe sauber in die Zeile!

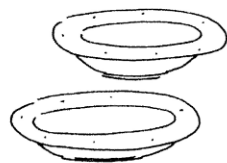
Lies nun die Druckschriftwörter unten links! Verbinde die Schreibschriftsilben zu Wörtern!
Verbinde Druck- und Schreibschriftwort miteinander!

Geschafft! Du darfst in deinem Lernpass dem 5. Deutschfenster ein Lachgesicht 😊 geben!

3. Sinnerfassung



- Esel
- Ente
- Ratte
- Lama
- Amsel



- Eimer
- Teller
- Messer



- Rita
- Murat
- Oma
- Umi

Male einen Teller rot an .



Umi will
Reis essen .
Male Reis .



Molo will Wurst .
Male Molos Wurst .



Susi will Wasser .
Male Susis Wasser .



4. Lese- und Schreibübung

Umi Schreibschrift S. 24 rechts: Lies die Sätze! Schreibe die richtige Ziffer davor!

Schreibe nun den jeweils passenden Satz in die nummerierte Zeile!

Geschafft! Du darfst in deinem Lernpass dem 6. Deutschfenster ein Lachgesicht 😊 geben!

Freitag, 29.01.21

Mathematik „Pluminchen“

1. Grundaufgaben der Addition

Lass dir die Grundaufgaben (im M1) durcheinander von einem Erwachsenen ansagen! Weißt du sofort die Lösung? Prima!

Wenn du noch nicht sicher bist, lerne weiter auswendig!

2. Pluminchen und Plumino

Bearbeite das Arbeitsblatt!


Nr.1 -3 Ergänze die fehlende Zahl im Schnabel! Schreibe nun die vier Aufgaben!

Nr. 4,5 Ergänze die fehlende Zahl im Auge! Schreibe nun die vier Aufgaben!

Nr. 6 Erfinde ein eigenes Plumino!

Nr. 7,8 Hier gibt es nur zwei Aufgaben!

Nr.9 Erfinde ein eigenes Pluminchen mit nur zwei Aufgaben!



Zahline S. 36/4-11

Geschafft! Du darfst in deinem Lernpass dem 5. Mathefenster ein Lachgesicht 😊 geben!

Fleißaufgabe



Tausch- und Umkehraufgaben

① Tauschaufgaben



$$3 + 4 = \square$$



$$4 + 3 = \square$$

$$6 + 3 = \square$$

$$3 + 6 = \square$$

$$7 + 2 = \square$$

$$2 + 7 = \square$$

② Suche die Tauschaufgaben.

$$1 + 5 = \square$$

$$\square + \square = \square$$

$$3 + 7 = \square$$

$$\square + \square = \square$$

$$4 + 6 = \square$$

$$\square + \square = \square$$

$$4 + 5 = \square$$

$$\square + \square = \square$$

$$8 + 0 = \square$$

$$\square + \square = \square$$

$$2 + 6 = \square$$

$$\square + \square = \square$$

③ Umkehraufgaben

$$6 + 1 = \square$$

$$\square - 1 = 6$$

$$4 + \square = 10$$

$$10 - \square = 4$$

$$8 - 3 = \square$$

$$\square + 3 = \square$$

$$9 - \square = 9$$

$$9 + \square = 9$$

$$7 + 0 = \square$$

$$\square - 0 = 7$$

$$\square + 2 = 5$$

$$5 - 2 = \square$$

④ Bilde Aufgabengruppen.

$3 + 5 = \square$	\rightarrow	$8 - 5 = \square$
$5 + 3 = \square$	\rightarrow	$8 - 3 = \square$


$2 + 6 = \square$	\rightarrow	$\square - 6 = \square$
$\square + 2 = \square$	\rightarrow	$\square - 2 = \square$

$7 + 2 = \square$	\rightarrow	$\square - \square = \square$
$\square + \square = \square$	\rightarrow	$\square - \square = \square$


$6 + 4 = \square$	\rightarrow	$\square - \square = \square$
$\square + \square = \square$	\rightarrow	$\square - \square = \square$

Deutsch:

1. Leseübung zur Sinnerfassung



Wo ist Umis Mimi ?


- Mimi ist am See .
- Mimi ist am  .
- Mimi ist im Nest .

Wo ist Umis  ?

- im Mantel
- am Seil
- am Ast

Male alles an .

Male einen Wal .



Tom weint so !

Male Tom an .



2. Schreibübung

Beachte folgende Schritte: Spure auf Zauberpapier nach! Übe in der freien Zeile auf Zauberpapier! Achte auf die Abstände zwischen den Wörtern! Wenn es so wie vorgeschrieben gelingt, schreibe in die Zeile!

Schreibe im D1:

Tom, sei leise!

Susi soll lesen.

So toll, Susi!

3. Leseübung zur Sinnerfassung

Wir wollen reimen

Wanne



Tal

Wappen



Turm

Wal



Tanne

Wurm



Lappen

Wo sind Umis Westen?

Male alle Westen an.



Geschafft! Du darfst in deinem Lernpass dem 7. Deutschfenster ein Lachgesicht 😊 geben!



Liebe Kinder, ihr seid sehr fleißig gewesen und bekommt von mir ein ganz **dickes Lob!**

Ich wünsche allen Kindern und Eltern erholsame Ferien und hoffe, dass wir uns am 15. Februar wieder in der Schule sehen, um gemeinsam lernen zu können!

Liebe Grüße von Umi und Frau Kindermann