



„Lernzielkontrolle Addieren bis 10“

Name: _____ Datum: _____

1 Rechengeschichten zum Addieren



2 $4 + 2 = \underline{\quad}$
 $5 + 2 = \underline{\quad}$
 $6 + 2 = \underline{\quad}$

$2 + 3 = \underline{\quad}$
 $3 + 3 = \underline{\quad}$
 $4 + 3 = \underline{\quad}$

$4 + 4 = \underline{\quad}$
 $5 + 4 = \underline{\quad}$
 $6 + 4 = \underline{\quad}$



3 $3 + 6 = \underline{\quad}$
 $6 + 3 = \underline{\quad}$

$2 + 5 = \underline{\quad}$


$3 + 7 = \underline{\quad}$



4 $1 + 9 = \underline{\quad}$

$2 + 6 = \underline{\quad}$

$2 + 8 = \underline{\quad}$



5

V	Zahl	N
	6	
	2	
	8	

V	Zahl	N
		10
	4	
6		



6 $2 + 3 + 2 = \underline{\quad}$
 $4 + 5 + 1 = \underline{\quad}$
 $3 + 0 + 4 = \underline{\quad}$

$7 + 2 + 1 = \underline{\quad}$
 $1 + 2 + 5 = \underline{\quad}$
 $5 + 0 + 4 = \underline{\quad}$



Du hast _____ Punkte von _____ Punkten erreicht.

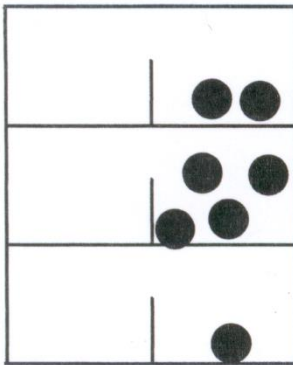
° Ich habe mit Steckwürfeln gerechnet.

° Ich habe die Aufgaben im Kopf gerechnet und auch keine Finger benutzt.

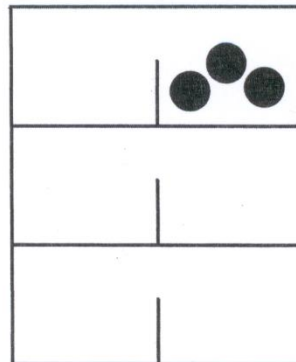
Zusatzaufgaben

Schaffst du diese Aufgaben noch? Dann darfst du sie bearbeiten! 😊

1.



___ + 2 = 7





___ + 3 = 10

___ + 2 = 10

___ + 5 = 10

2.



Zusatzpunkte:

Geschafft! Du darfst in deinem Lernpass dem 2. Mathefenster ein Lachgesicht 😊 geben!

