

# Übersicht Lernaufgaben Mathe Woche 4.5.-8.5.2020

## Mathematik

### Montag

Tägliche Übung: *Schreibe ins M1*

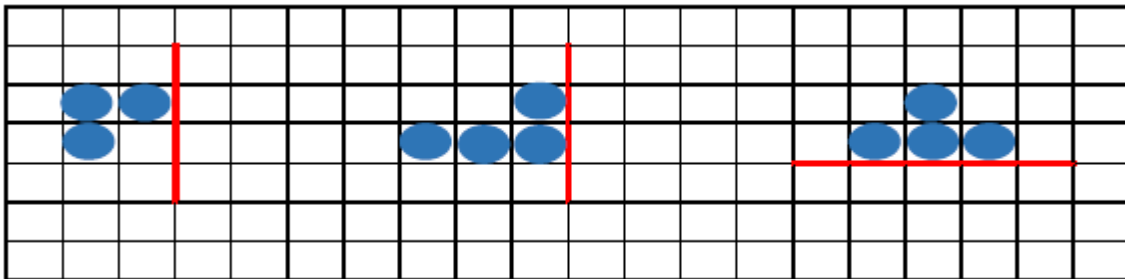
1. Rechne im Kopf!

$8 + 4 =$	$11 - 3 =$
$7 + 9 =$	$18 - 9 =$
$5 + 8 =$	$14 - 5 =$
$9 + 4 =$	$12 - 7 =$
$6 + 7 =$	$13 - 6 =$


2. Setze die Zahlenreihe fort!

20, 18, \_\_, \_\_, \_\_, \_\_, \_\_, \_\_, \_\_  
19, 17, \_\_, \_\_, \_\_, \_\_, \_\_

3. Zeichne die Bilder in dein Heft. Spiegle die Figuren an der roten Spiegelachse!



- Wiederholung: Münzen und Scheine



*Schneide die Münzen und Scheine aus und male sie richtig aus!*

- Übung: B.S.114 Spielzeuggeschäft ins M2  
Kaufe folgende Dinge ein: Beispiel: Puppe und Buch  
Schreibe so:  $9\text{€} + 7\text{€} =$   
Pferd und Ball                      Puppe und Farbekasten  
Kran und Puzzle                     Buch und Traktor  
Fernglas und Kran                  Zug und Rennauto

- Festigung: *Kaufe immer 2 Dinge ein, die zusammen 10€ kosten! Wie viele Beispiele findest du?*

## Dienstag

- **Tägliche Übung:** *Schreibe ins M1*

1. Rechne im Kopf!

$7 + 6 =$

$8 + 3 =$

$2 + 9 =$

$5 + 7 =$

$6 + 9 =$

$12 - 7 =$

$15 - 8 =$

$13 - 9 =$

$11 - 5 =$

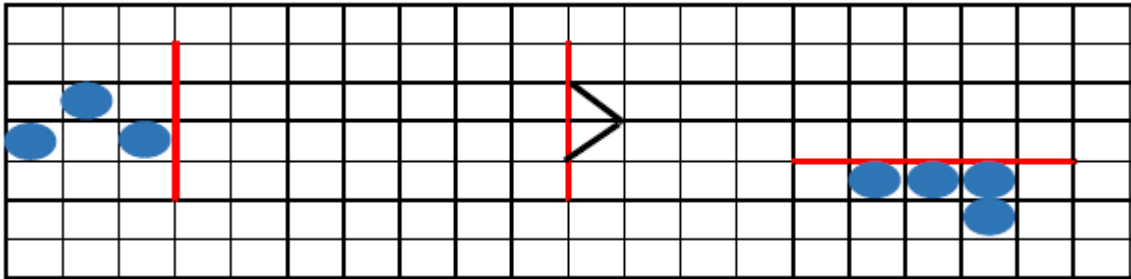
$17 - 8 =$

2. Setze die Zahlenreihe fort!

0, 3, \_\_, \_\_, \_\_, \_\_, \_\_, \_\_, \_\_

0, 4, \_\_, \_\_, \_\_, \_\_, \_\_

3. Zeichne die Bilder in dein Heft. Spiegle die Figuren an der roten Spiegelachse.



- **Übung:** *B.S.114/1-6*  
*Löse die Aufgaben ins M2!*

*Schreibe so:*  $10\text{€} - 8\text{€} = 2\text{€}$       2€ zurück

- **Festigung:** *Kaufe folgende Gegenstände!*

Kartenspiel und Seifenblasen und Farbekasten

Brille und Eulenbuch und Rennauto

Murmeln und Kran und Puzzle

Fernglas und Fußball und Traktor

Puppe und Zug und Seifenblasen

Pferd und Kinderlexikon und Murmeln

## Mittwoch

- **Tägliche Übung:** Zeichne folgende Strecken ins Geometrieheft!

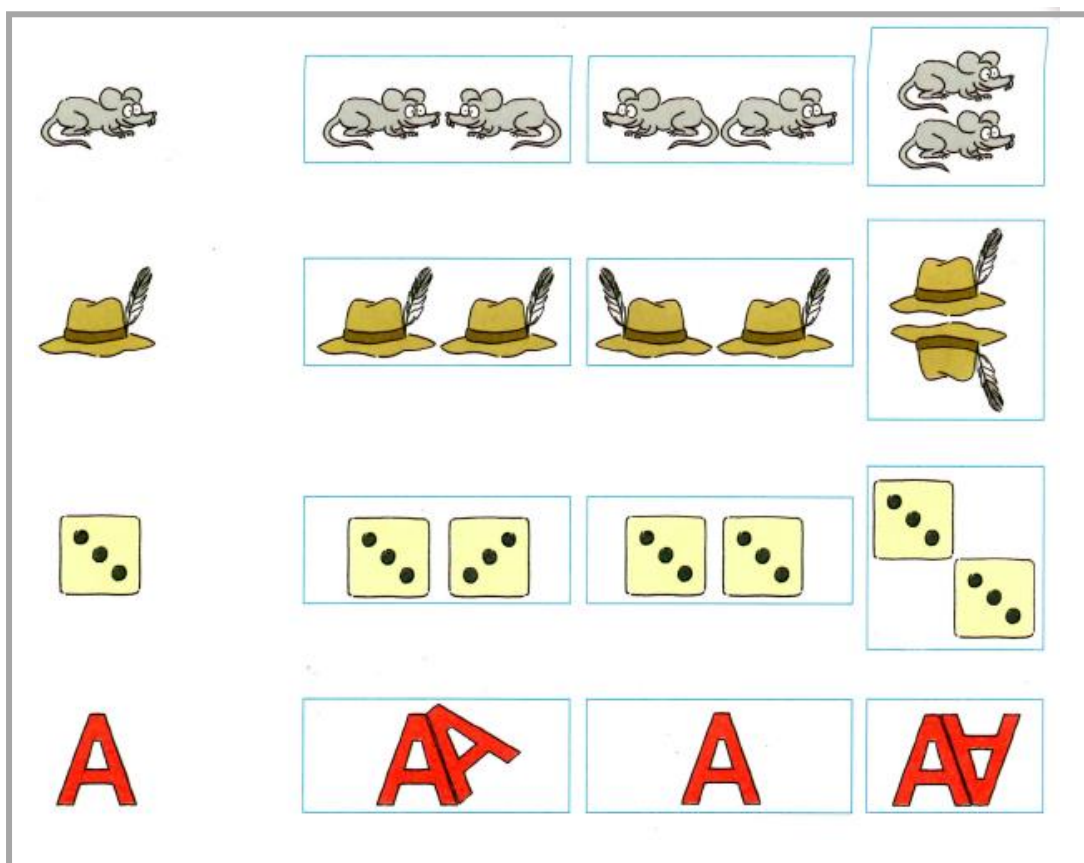
$$AB = 4\text{cm}$$

$$CD = 7\text{cm}$$

$$EF = 2\text{cm}$$

$$GH = 11\text{cm}$$

- **Übung:** Welche Spiegelbilder sind richtig?  
Klebe die Bilder ins Geometrieheft!  
Zeichne die Spiegelachsen ein und streiche falsche Bilder durch!



- **Festigung:** B.S.87/2, 3

*Zeichne die Bilder in dein M1 und spiegle sie an der Spiegelachse!*

## Donnerstag

- Tägliche Übung: *Schreibe ins M1!*

1. Rechne im Kopf!

$$8 + \_ = 13$$

$$5 + \_ = 11$$

$$7 + \_ = 12$$

$$9 + \_ = 17$$

$$6 + \_ = 14$$

$$11 - \_ = 4$$


$$14 - \_ = 8$$

$$15 - \_ = 7$$

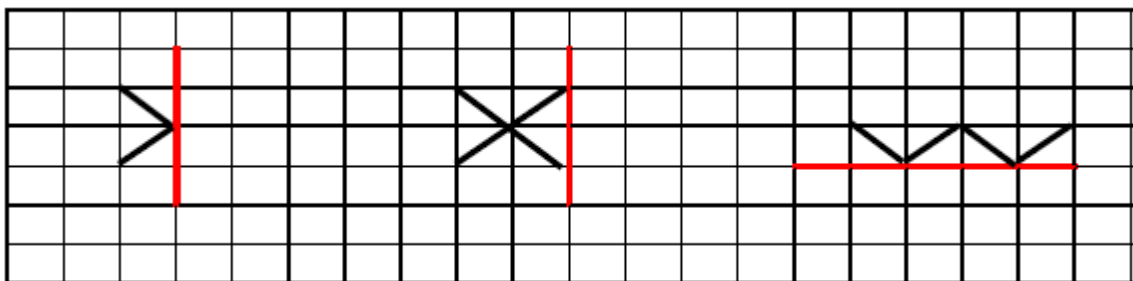
$$13 - \_ = 5$$

$$12 - \_ = 3$$

2. Wie wurde bezahlt?



3. Zeichne die Bilder in dein Heft. Spiegle die Figuren an der roten Spiegelachse.



- Übung: Ah.S.54/1-6  
*Trage die Preise ein!*  
*Wie viel bekommst du zurück?*
- Festigung: Ah.S.54/7, 8  
*Bilde das Doppelte und die Hälfte in der Tabelle!*

## Freitag

- Tägliche Übung: *Schreibe ins M1!*

1. Rechne im Kopf!

$8 + 7 + 2 =$

$1 + 3 + 7 =$

$5 + 4 + 6 =$

$0 + 10 + 4 =$

$5 + 3 + 5 =$

$17 - 3 - 7 =$

$18 - 9 - 8 =$

$12 - 2 - 5 =$

$14 - 3 - 4 =$

$15 - 5 - 2 =$

2. Wie wurde bezahlt?

13€:



17€:



11€:



14€:



3. Spiegel die Buchstaben an der Spiegelachse!

A

T

W

Z

- Übung: *Schreibe den Preis der Gegenstände auf das Schildchen:  
Lege den Betrag mit 3 und 4 Geldstücken!*



Immer mit 3.




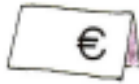
Immer mit 4.





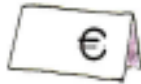
1





2



3



4



1 – 4 Scheine oder Münzen zeichnen: links drei, rechts vier.

Wieder eine Woche geschafft!

Ihr seid nun richtige Profis geworden beim Lernen Zuhause. So viele Dinge habt ihr nun in Deutsch und Mathe allein gelernt. Ich bin schon richtig gespannt, wie der Unterricht wird, wenn wir uns wiedersehen. Diese Woche durften die großen 4. Klässler als erstes wieder in Schule kommen. Ich hoffe sehr, dass es nicht mehr lange dauert, bis auch wir wieder gemeinsam lernen dürfen.

Liebe Grüße, eure Frau Schroll

Fleiß für diese Woche:



1

$15 + 3 = \underline{\quad}$

$11 + 4 = \underline{\quad}$

$10 - 8 = \underline{\quad}$

$6 - 4 = \underline{\quad}$

$8 - 3 = \underline{\quad}$

2

$14 - 10 = \underline{\quad}$

$9 - 4 = \underline{\quad}$

$6 + 6 = \underline{\quad}$

$10 - 4 = \underline{\quad}$

$4 + 5 = \underline{\quad}$

$16 - 2 = \underline{\quad}$

3

$8 + 5 = \underline{\quad}$

$20 + 1 = \underline{\quad}$

$13 + 6 = \underline{\quad}$

$10 - 7 = \underline{\quad}$

$12 - 4 = \underline{\quad}$

$11 - 6 = \underline{\quad}$

$5 + 7 = \underline{\quad}$

4

$6 + 5 = \underline{\quad}$

$14 + 4 = \underline{\quad}$

$14 - 9 = \underline{\quad}$

$10 - 8 = \underline{\quad}$

$15 + 4 = \underline{\quad}$

5

$3 + 8 = \underline{\quad}$

$8 + 7 = \underline{\quad}$

$12 + 6 = \underline{\quad}$

$6 - 5 = \underline{\quad}$

$6 + 6 = \underline{\quad}$

$3 + 9 = \underline{\quad}$

$12 - 7 = \underline{\quad}$

6

$1 + \underline{\quad} = 20$

$5 + \underline{\quad} = 10$


$15 + \underline{\quad} = 20$

$1 + \underline{\quad} = 10$

$13 + \underline{\quad} = 20$

$6 + \underline{\quad} = 11$

$2 + \underline{\quad} = 14$





## Minus-Aufgaben bis 20 (ZE - E)



1

$$15 - 6 = \underline{\quad}$$

$$14 - 7 = \underline{\quad}$$

$$13 - 4 = \underline{\quad}$$

$$13 - 8 = \underline{\quad}$$

$$12 - 3 = \underline{\quad}$$

2

$$13 - 7 = \underline{\quad}$$

$$14 - 9 = \underline{\quad}$$

$$12 - 5 = \underline{\quad}$$

$$16 - 8 = \underline{\quad}$$

$$12 - 4 = \underline{\quad}$$

3

$$11 - 9 = \underline{\quad}$$

$$12 - 8 = \underline{\quad}$$

$$16 - 7 = \underline{\quad}$$

$$15 - 9 = \underline{\quad}$$

$$13 - 6 = \underline{\quad}$$

4

$$18 - 9 = \underline{\quad}$$

$$12 - 9 = \underline{\quad}$$

$$11 - 6 = \underline{\quad}$$

$$16 - 9 = \underline{\quad}$$

$$14 - 5 = \underline{\quad}$$

5

$$11 - 3 = \underline{\quad}$$

$$17 - 8 = \underline{\quad}$$

$$12 - 6 = \underline{\quad}$$

$$11 - 4 = \underline{\quad}$$

$$11 - 8 = \underline{\quad}$$

6

$$14 - 8 = \underline{\quad}$$

$$13 - 9 = \underline{\quad}$$

$$11 - 7 = \underline{\quad}$$

$$17 - 9 = \underline{\quad}$$

$$11 - 5 = \underline{\quad}$$

Ich habe in      Minuten      Aufgaben geschafft.

Das finde ich:



[www.mathemasterchende.de](http://www.mathemasterchende.de)

## Plus- und Minus-Aufgaben mit Überschreitung (1)



1

$$7 + 6 = \underline{\quad}$$

$$17 - 9 = \underline{\quad}$$

$$4 + 8 = \underline{\quad}$$

$$13 - 4 = \underline{\quad}$$

$$2 + 9 = \underline{\quad}$$

2

$$13 - 7 = \underline{\quad}$$

$$9 + 4 = \underline{\quad}$$

$$11 - 8 = \underline{\quad}$$

$$7 + 9 = \underline{\quad}$$

$$11 - 3 = \underline{\quad}$$

3

$$5 + 8 = \underline{\quad}$$

$$14 - 5 = \underline{\quad}$$

$$8 + 5 = \underline{\quad}$$

$$15 - 9 = \underline{\quad}$$

$$4 + 9 = \underline{\quad}$$

4

$$12 - 7 = \underline{\quad}$$

$$5 + 6 = \underline{\quad}$$

$$13 - 8 = \underline{\quad}$$

$$8 + 7 = \underline{\quad}$$

$$14 - 6 = \underline{\quad}$$

5

$$9 + 9 = \underline{\quad}$$

$$15 - 7 = \underline{\quad}$$

$$7 + 4 = \underline{\quad}$$

$$12 - 9 = \underline{\quad}$$

$$6 + 8 = \underline{\quad}$$

6

$$11 - 4 = \underline{\quad}$$

$$8 + 3 = \underline{\quad}$$

$$15 - 8 = \underline{\quad}$$

$$9 + 7 = \underline{\quad}$$

$$13 - 5 = \underline{\quad}$$

Ich habe in      Minuten      Aufgaben geschafft.

Das finde ich:



[www.mathemasterchende.de](http://www.mathemasterchende.de)