


Name:

Datum:




Test Mathematik: Rechnen bis 10

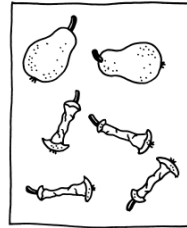
1. Rechengeschichten: Ordne jedem Bild eine passende Aufgabe zu!



__ - __ = __



__ + __ = __






__ - __ = __



__ + __ + __ = __

2. Löse die Pluminchen! Finde die Zahl im Schnabel und dann 4 passende Aufgaben zu den 3 Zahlen!



3. Löse die Aufgaben!

2 + 2 = __

5 + 3 = __

4 + __ = 7

__ + 2 = 8

3 + 2 = __

7 + 3 = __

4 + __ = 9

__ + 1 = 6

6 - 2 = __

9 - 3 = __

10 - __ = 8

__ - 4 = 4

5 - 2 = __

7 - 3 = __

6 - __ = 3

__ - 1 = 2

4. Plus oder minus? Trage das richtige Zeichen in den Kreis ein!

4 ○ 2 = 6

4 ○ 1 = 3

3 ○ 3 = 0

8 ○ 5 = 3

7 ○ 2 = 5

2 ○ 2 = 4

6 ○ 1 = 7

2 ○ 6 = 8

6 ○ 2 = 4

2 ○ 3 = 5

6 ○ 1 = 7

4 ○ 4 = 8

5. Ergänze die Zahlenfolgen!

0, 2, __, __, __, __, 12

9, 8, __, __, __, __, 3



Zusatzaufgaben

6. Folge den Rechenbefehlen!

$$\begin{array}{ccccccc} 10 & \xrightarrow{-3} & \underline{\quad} & \xrightarrow{-2} & \underline{\quad} & \xrightarrow{-0} & \underline{\quad} & \xrightarrow{-4} & \underline{\quad} \\ 12 & \xrightarrow{-2} & \underline{\quad} & \xrightarrow{-4} & \underline{\quad} & \xrightarrow{-3} & \underline{\quad} & \xrightarrow{-3} & \underline{\quad} \\ 11 & \xrightarrow{-3} & \underline{\quad} & \xrightarrow{-4} & \underline{\quad} & \xrightarrow{+2} & \underline{\quad} & \xrightarrow{+3} & \underline{\quad} \end{array}$$

7. Rechne und male aus!



Wir haben heute überprüft, wie sicher du im Zahlenraum bis 10 rechnen kannst. Kreuze bitte an:

- mit Hilfsmitteln/ schon ohne Hilfsmittel rechnest
- sehr sicher / recht sicher / noch nicht sicher lösen kannst
- sorgsam / recht ordentlich / nicht sorgsam schreibst
- es sogar geschafft hast, die Zusatzaufgaben fehlerfrei / mit wenigen Fehlern zu bearbeiten

Das ist:

- Hervorragend!!!
- Prima!
- Schon ganz gut!
- ein Zeichen dafür, dass du gründlicher / sorgsamer / zügiger arbeiten / fleißig üben musst!

Punkte:

Unterschrift: