

**Mittwoch, 20.01.21**

**Mathematik „Übungen zum Subtrahieren“**

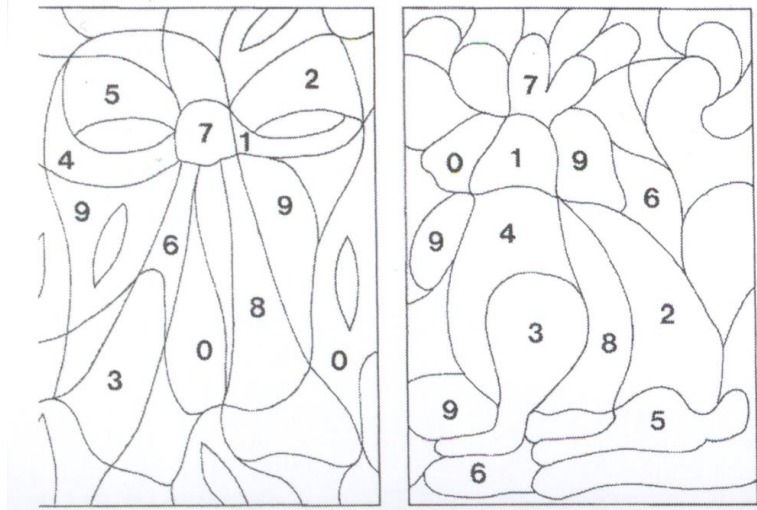
Rechne mit Steckwürfeln!

Rechne aus und male die Lösungsfelder an!

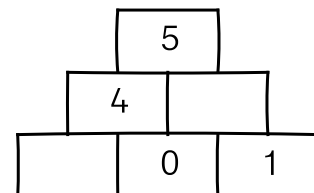
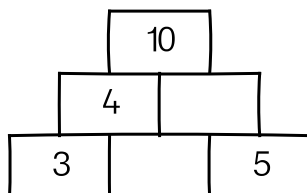
- 1)  $9 - 2 =$
- 2)  $7 - 3 =$
- 3)  $8 - 0 =$
- 4)  $6 - 3 =$
- 5)  $7 - 2 =$
- 6)  $2 - 0 =$
- 7)  $4 - 3 =$
- 8)  $8 - 2 =$

Rechne aus und male die Lösungsfelder an!

- 1)  $5 - \quad = 2$
- 2)  $8 - \quad = 8$
- 3)  $4 - \quad = 3$
- 4)  $9 - \quad = 5$
- 5)  $7 - \quad = 2$
- 6)  $8 - \quad = 0$
- 7)  $9 - \quad = 2$
- 8)  $6 - \quad = 4$



Für Schlaufüchse:



Geschafft! Du darfst in deinem Lernpass dem 3. Mathefenster ein Lachgesicht 😊 geben!